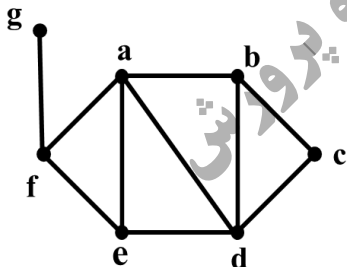


سؤالات امتحان نهایی درس: ریاضیات گسسته	ساعت شروع: ۸ صبح	نام و نام خانوادگی:	رشته: ریاضی فیزیک
پایه دوازدهم دوره دوم متوسطه	تعداد صفحه: ۲	تاریخ امتحان: ۱۴۰۲/۰۳/۲۱	مدت امتحان: ۱۲۰ دقیقه
دانش آموزان روزانه، بزرگسال و داوطلبان آزاد سراسر کشور در نوبت خرداد ماه سال ۱۴۰۲		مرکز ارزشیابی و تضمین کیفیت نظام آموزش و پرورش http://aee.medu.gov.ir	

ردیف	سؤالات پاسخ نامه دارد. (استفاده از ماشین حساب ساده، با چهار عمل اصلی، مجاز است.)	نمره
------	---	------

۱	درست یا نادرست بودن عبارات زیر را مشخص کنید. الف) حاصل ضرب هر عدد گویای ناصفر در یک عدد گنگ، عددی گنگ است. ب) حاصل $(3m+2, 3m+1)$ برابر ۱ می باشد. ج) تعداد رئوس فرد هر گراف، عددی فرد است. د) عدد احاطه‌گری $P_1$ برابر عدد ۳ است.	۱
۱/۵	جاهای خالی را با عبارت مناسب پر کنید. الف) در یک گراف از مرتبه $p$ ، اگر $\chi(G) = 1$ باشد، در این صورت حداقل تعداد یالها برابر ..... است. ب) در یک مربع لاتین چرخشی $4 \times 4$ مجموع درایه های روی قطر اصلی برابر ..... است. ج) تعداد توابع یک به یک از یک مجموعه ۳ عضوی به یک مجموعه ۵ عضوی برابر ..... است.	۲
۰/۷۵	اگر $x, y, z$ سه عدد حقیقی باشند، ثابت کنید: $x^2 + y^2 + 1 \geq 2xy - z^2$	۳
۱	اگر $a 2m+3$ و $a m+7$ در این صورت چند مقدار صحیح و نامنفی برای $a$ وجود دارد؟	۴
۱/۵	باقی مانده تقسیم $a$ بر دو عدد ۴ و ۵ به ترتیب برابر ۳ و ۴ می باشد، باقی مانده تقسیم $a$ بر ۲۰ را محاسبه کنید. (با راه حل)	۵
۱/۲۵	در معادله سیاله $15x + 19y = 7$ ، بزرگترین عدد ۲ رقمی طبیعی که می توان برای $x$ در نظر گرفت چه مقداری می باشد؟ (با راه حل)	۶
۱	به گراف ۸ رأسی ۳-منتظم چند یال اضافه کنیم تا تبدیل به گراف کامل شود؟ (با راه حل)	۷
۰/۷۵	گراف $G$ به صورت زیر رسم شده است. با توجه به این گراف به سوالات زیر پاسخ دهید. الف) مجموعه $N_G(g)$ را بنویسید. ب) یک دور به طول ۵ با شروع از رأس $a$ بنویسید. ج) درجه رأس $c$ در گراف $\bar{G}$ (مکمل گراف $G$ ) را مشخص کنید.	۸



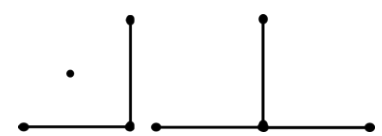
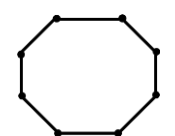
«بقیه سوالات در صفحه دوم»

سؤالات امتحان نهایی درس: ریاضیات گسسته	ساعت شروع: ۸ صبح	نام و نام خانوادگی:	رشته: ریاضی فیزیک
پایه دوازدهم دوره دوم متوسطه	تعداد صفحه: ۲	تاریخ امتحان: ۱۴۰۲/۰۳/۲۱	مدت امتحان: ۱۲۰ دقیقه
دانش آموزان روزانه، بزرگسال و داوطلبان آزاد سراسر کشور در نوبت خرداد ماه سال ۱۴۰۲		مرکز ارزشیابی و تضمین کیفیت نظام آموزش و پرورش http://aee.medu.gov.ir	

ردیف	سؤالات پاسخ نامه دارد. (استفاده از ماشین حساب ساده، با چهار عمل اصلی، مجاز است.)	نمره
------	---	------

۹	گراف زیر را در نظر بگیرید. الف) یک مجموعه احاطه گر غیر مینیمال با ۴ عضو بنویسید. ب) یک مجموعه احاطه گر مینیمال با ۴ عضو بنویسید. ج) با اضافه کردن چه یالی به گراف، عدد احاطه گری گراف ۲ خواهد شد؟	۱/۵
۱۰	الف) یک گراف ۸ رأسی (همبند یا ناهمبند) با عدد احاطه گری ۳ رسم کنید که یک مجموعه احاطه گر یکتا با اندازه ۳ داشته باشد. ب) یک گراف ۸ رأسی (همبند یا ناهمبند) با عدد احاطه گری ۳ رسم کنید که بیش از یک مجموعه احاطه گر با اندازه ۳ داشته باشد.	۱
۱۱	الف) عدد احاطه گری گراف مقابل را با ارائه راه حل، تعیین کنید. ب) این گراف چند $\gamma$ -مجموعه دارد؟	۱/۷۵
۱۲	اگر داشته باشیم $A = \{۷, ۸, ۹\}$ و $B = \{a, b, c, d, e, f\}$ در این صورت چند کد با شش کارکتر متمایز می توان نوشت که هر یک شامل دو رقم از $A$ و چهار حرف از $B$ باشد؟	۰/۷۵
۱۳	معادله $x_1 + x_2 + x_3 + 2x_4 = 10$ چند جواب صحیح و نامنفی دارد؟	۱/۷۵
۱۴	قرار است ۳ راننده با ۳ نوع ماشین در ۳ مسیر متفاوت در ۳ روز اول هفته رانندگی کنند به گونه ای که هر راننده با هر نوع ماشین، هر مسیری را دقیقاً یکبار طی کرده باشد و نیز هر ماشین، هر یک از مسیرها را دقیقاً یک بار طی کند. برای این مسأله برنامه ریزی کنید.	۱/۵
۱۵	چند رمز ۴ رقمی با ارقام ۱ تا ۵ می توان نوشت به طوری که هر رمز، حداقل یک رقم ۳ و یک رقم ۲ را شامل باشد؟ (نیاز به محاسبه پاسخ نهایی نمی باشد)	۱/۵
۱۶	حداقل افراد شرکت کننده در یک همایش چند نفر باشند، تا با اطمینان بتوان گفت که ۵ نفر از آن ها در یک ماه متولد شده اند و رقم یکان کد ملی آنها زوج است.	۱/۵
	"موفق باشید"	جمع نمره
		۲۰

مدت امتحان: ۱۲۰ دقیقه	ساعت شروع: ۸ صبح	رشته: ریاضی فیزیک	راهنمای تصحیح امتحان نهایی درس: ریاضیات گسسته
تاریخ امتحان: ۱۴۰۲/۰۳/۲۱		پایه دوازدهم دوره دوم متوسطه	
مرکز ارزشیابی و تضمین کیفیت نظام آموزش و پرورش <a href="http://aee.medu.gov.ir">http://aee.medu.gov.ir</a>		دانش آموزان روزانه، بزرگسال و داوطلبان آزاد سراسر کشور خرداد ماه سال ۱۴۰۲	

ردیف	راهنمای تصحیح	نمره
۱	الف) درست (۰/۲۵) (صفحه ۵) ب) درست (۰/۲۵) (صفحه ۱۷) ج) نادرست (۰/۲۵) (صفحه ۴۰) د) نادرست (۰/۲۵) (صفحه ۵۳)	۱
۲	الف) $p-1$ (۰/۵) (صفحه ۵۳) ب) ۴ (۰/۵) (صفحه ۶۳) ج) $\frac{5!}{2!} = 60$ (۰/۵) (صفحه ۷۸)	۱/۵
۳	همواره بدیهی است $(x-y)^2 + z^2 + 1 \geq 0 \Leftrightarrow x^2 + y^2 - 2xy + z^2 + 1 \geq 0 \Leftrightarrow x^2 + y^2 + 1 \geq 2xy - z^2$ (صفحه ۸) (۰/۲۵)	۰/۷۵
۴	$\begin{cases} a   2m+3 \\ a   m+7 \end{cases} \xrightarrow{\times 2} \begin{cases} a   2m+3 \\ a   2m+14 \end{cases} \xrightarrow{(0/25)} a   11 \rightarrow a = 1, a = 11$ (صفحه ۱۱)	۱
۵	$\begin{cases} a = 5q_1 + 4 & (0/25) \xrightarrow{\times 4} 4a = 20q_1 + 16 & (0/25) \\ a = 4q_2 + 3 & (0/25) \xrightarrow{\times 5} 5a = 20q_2 + 15 & (0/25) \end{cases}$ $\xrightarrow{-} a = 20q' - 1 & (0/25) \rightarrow a = 20q'' + 19 & (0/25)$ (صفحه ۱۶)	۱/۵
۶	$15x \equiv 7 \pmod{19} \xrightarrow{19} 15x \equiv 45 \pmod{19} \xrightarrow{(15,19)=1} x \equiv 3 \pmod{19}$ $\rightarrow x = 19k + 3 \pmod{19} \xrightarrow{k=5} x = 98 \pmod{19}$ (صفحه ۲۸)	۱/۲۵
۷	$\begin{cases} q = \frac{kn}{2} \rightarrow q = \frac{8 \times 3}{2} = 12 & (0/25) \\ q = \frac{n(n-1)}{2} \rightarrow q = \frac{8 \times 7}{2} = 28 & (0/25) \end{cases} \rightarrow 28 - 12 = 16 \pmod{5}$ (صفحه ۴۰)	۱
۸	الف) $\{f\}$ (۰/۲۵) ب) $abdefa$ یا $abcdea$ (۰/۲۵) ج) ۴ (صفحه ۴۱) (۰/۲۵)	۰/۷۵
۹	الف) $\{c, e, h, f\}$ (۰/۵) ب) $\{c, g, i, e\}$ (۰/۵) ج) $fh$ (صفحه ۴۷) (۰/۵) در قسمت الف و ب و ج به پاسخ های درست دیگر نمره تعلق بگیرد.	۱/۵
۱۰	الف)  (۰/۵) ب)  (۰/۵) در قسمت الف و ب برای شکل های درست دیگر نمره تعلق بگیرد. (صفحه ۵۳)	۱

مدت امتحان: ۱۲۰ دقیقه	ساعت شروع: ۸ صبح	رشته: ریاضی فیزیک	راهنمای تصحیح امتحان نهایی درس: ریاضیات گسسته
تاریخ امتحان: ۱۴۰۲/۰۳/۲۱		پایه دوازدهم دوره دوم متوسطه	
مرکز ارزشیابی و تضمین کیفیت نظام آموزش و پرورش <a href="http://aee.medu.gov.ir">http://aee.medu.gov.ir</a>		دانش آموزان روزانه، بزرگسال و داوطلبان آزاد سراسر کشور خرداد ماه سال ۱۴۰۲	

ردیف	راهنمای تصحیح	نمره																																																
۱۱	الف) می‌دانیم $\left\lfloor \frac{n}{\Delta+1} \right\rfloor \leq \gamma(G)$ پس داریم $\left\lfloor \frac{8}{5+1} \right\rfloor \leq \gamma(G)$ در نتیجه $2 \leq \gamma(G)$ (۰/۲۵) از طرفی مجموعه ای مانند $\{e, c\}$ (هر کدام از مجموعه های $\{e, b\}$ یا $\{e, d\}$ اگر نوشته شد نیز مورد قبول است) یک مجموعه احاطه‌گر برای گراف $(G)$ می‌باشد پس $\gamma(G) \leq 2$ (۰/۵) بنابراین $\gamma(G) = 2$ (۰/۲۵) (فعالیت صفحه ۵۰)	۱/۷۵																																																
۱۲	(صفحه ۷۱) $\binom{3}{2} \times \binom{6}{4} \times 6!$ (۰/۷۵)	۰/۷۵																																																
۱۳	(صفحه ۷۱) $\begin{cases} x_f = 0 \xrightarrow{(0/25)} x_1 + x_r + x_p = 10 \xrightarrow{(0/25)} \binom{12}{2} = 66 \quad (0/25) \\ \phantom{x_f = 0} \phantom{\xrightarrow{(0/25)}} \phantom{x_1 + x_r + x_p = 10} \phantom{\xrightarrow{(0/25)}} \phantom{\binom{12}{2}} \phantom{=} \phantom{66} \phantom{(0/25)} \phantom{\rightarrow} \phantom{66 + 45 = 111} \phantom{(0/25)} \\ x_f = 1 \xrightarrow{(0/25)} x_1 + x_r + x_p = 8 \xrightarrow{(0/25)} \binom{10}{2} = 45 \quad (0/25) \end{cases}$ $\rightarrow 66 + 45 = 111$ (۰/۲۵)	۱/۷۵																																																
۱۴	(صفحه ۷۲) <table border="1" style="display: inline-table; margin-right: 20px;"> <tr><td></td><td>a</td><td>b</td><td>c</td></tr> <tr><td>شنبه</td><td>۱</td><td>۲</td><td>۳</td></tr> <tr><td>یکشنبه</td><td>۳</td><td>۱</td><td>۲</td></tr> <tr><td>دوشنبه</td><td>۲</td><td>۳</td><td>۱</td></tr> </table> و <table border="1" style="display: inline-table; margin-right: 20px;"> <tr><td></td><td>a</td><td>b</td><td>c</td></tr> <tr><td>شنبه</td><td>۱</td><td>۳</td><td>۲</td></tr> <tr><td>یکشنبه</td><td>۳</td><td>۲</td><td>۱</td></tr> <tr><td>دوشنبه</td><td>۲</td><td>۱</td><td>۳</td></tr> </table> $\rightarrow$ <table border="1" style="display: inline-table;"> <tr><td></td><td>a</td><td>b</td><td>c</td></tr> <tr><td>شنبه</td><td>۱۱</td><td>۲۳</td><td>۳۲</td></tr> <tr><td>یکشنبه</td><td>۳۳</td><td>۱۲</td><td>۲۱</td></tr> <tr><td>دوشنبه</td><td>۲۲</td><td>۳۱</td><td>۱۳</td></tr> </table> (۰/۵) (۰/۵) (۰/۵) به مربع های لاتین متعامد صحیح دیگر نمره تعلق بگیرد.		a	b	c	شنبه	۱	۲	۳	یکشنبه	۳	۱	۲	دوشنبه	۲	۳	۱		a	b	c	شنبه	۱	۳	۲	یکشنبه	۳	۲	۱	دوشنبه	۲	۱	۳		a	b	c	شنبه	۱۱	۲۳	۳۲	یکشنبه	۳۳	۱۲	۲۱	دوشنبه	۲۲	۳۱	۱۳	۱/۵
	a	b	c																																															
شنبه	۱	۲	۳																																															
یکشنبه	۳	۱	۲																																															
دوشنبه	۲	۳	۱																																															
	a	b	c																																															
شنبه	۱	۳	۲																																															
یکشنبه	۳	۲	۱																																															
دوشنبه	۲	۱	۳																																															
	a	b	c																																															
شنبه	۱۱	۲۳	۳۲																																															
یکشنبه	۳۳	۱۲	۲۱																																															
دوشنبه	۲۲	۳۱	۱۳																																															
۱۵	(صفحه ۷۵) $ S  = 5^f$ (۰/۲۵) : تعداد کل رمزها $ A  = 4^f$ (۰/۲۵) : تعداد رمزهای فاقد ۳ $ B  = 4^f$ (۰/۲۵) : تعداد رمزهای فاقد ۲ $ A \cap B  = 3^f$ (۰/۲۵) : تعداد رمزهای فاقد ۲ و ۳ $ \bar{A} \cap \bar{B}  =  S  -  A \cup B  = 5^f - (4^f + 4^f - 3^f)$ (۰/۵)	۱/۵																																																

مدت امتحان: ۱۲۰ دقیقه	ساعت شروع: ۸ صبح	رشته: ریاضی فیزیک	راهنمای تصحیح امتحان نهایی درس: ریاضیات گسسته
تاریخ امتحان: ۱۴۰۲/۰۳/۲۱		پایه دوازدهم دوره دوم متوسطه	
مرکز ارزشیابی و تضمین کیفیت نظام آموزش و پرورش <a href="http://aee.medu.gov.ir">http://aee.medu.gov.ir</a>		دانش آموزان روزانه، بزرگسال و داوطلبان آزاد سراسر کشور خرداد ماه سال ۱۴۰۲	
ردیف	راهنمای تصحیح		نمره
۱۶	<p>اگر افراد جامعه را به دو دسته افراد با کد ملی زوج و فرد دسته بندی کنیم. برای افراد با کد ملی زوج ۱۲ ماه سال را به عنوان ۱۲ لانه در نظر می گیریم.</p> <p>(۰/۲۵) <math>۱۲ = \text{تعداد ماه ها} = \text{تعداد لانه ها}</math></p> <p>(۰/۵) <math>۱۲ \times ۴ + ۱ = ۴۹</math> <math>\xrightarrow[k=۴]{n=۱۲} nk + ۱ = \text{تعداد کبوترها}</math> (۰/۲۵) <math>k + ۱ = ۵ \Rightarrow k = ۴</math></p> <p>اگر تعداد افراد با کد ملی فرد را <math>m</math> نفر در نظر بگیریم، حداقل <math>m + ۴۹</math> نفر باید در همایش حضور داشته باشند. پس با مقادیر مختلف <math>m</math> مساله بیشمار جواب دارد. (۰/۲۵)</p> <p>(صفحه ۸۳)</p> <p>با توجه به باز پاسخ بودن سوال از لحاظ پاسخ دهی دانش آموزان، مصححین محترم برای پاسخ های مناسب دیگر نمره تعلق بگیرد.</p>		۱/۵
جمع نمره			۲۰